






Histoires sans paroles (1)

$$\begin{aligned}
 & \text{tortue} + \text{tortue} + \text{tortue} + \text{poisson} + \text{crevette} = 31 \\
 & \text{crevette} + \text{crevette} + \text{crevette} + \text{crevette} + \text{crevette} = 15 \\
 & \text{calmar} + \text{poisson} + \text{crabe} + \text{crabe} + \text{crabe} = 28 \\
 & \text{crevette} + \text{poisson} + \text{poisson} + \text{crabe} + \text{crabe} = 23 \\
 & \text{crevette} + \text{crevette} + \text{crevette} + \text{crevette} + \text{tortue} = 20 \\
 & \text{crabe} + \text{poisson} + \text{tortue} + \text{crevette} + \text{crevette} = 24
 \end{aligned}$$

	= ?
	= ?
	= ?
	= ?
	= ?

Indiquez la valeur de chaque animal expliquez comment vous avez trouvé.