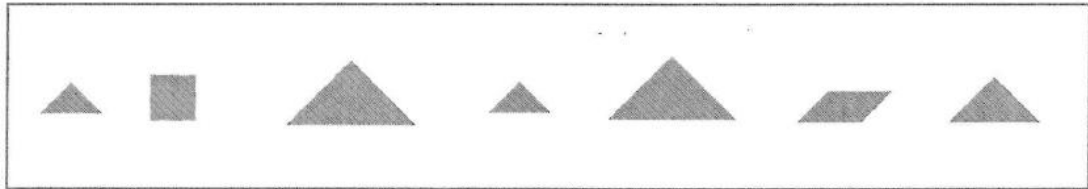

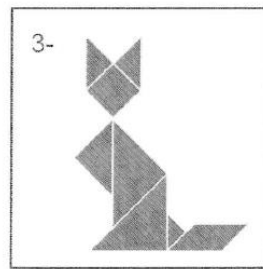




Tangram chat



En utilisant toutes ces formes géométriques, quel assemblage, ci-dessous, peux-tu reproduire ?
 Tu dois utiliser toutes ces pièces, pas plus, pas moins.



Réponse :

Je peux reproduire l'assemblage N°

Pour la réponse : Compléter le cadre, ci-dessus.

Pour la démarche : **Expliciter** la démarche sous forme de votre choix.

Joindre les traces de la recherche (photos, dessins, schémas).